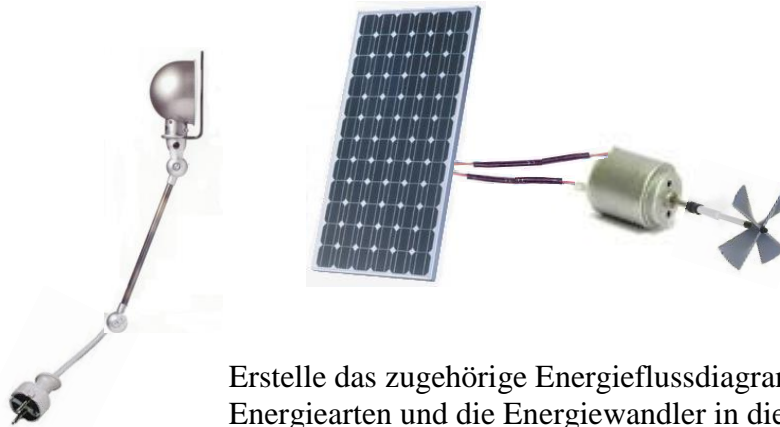



Physik * Jahrgangsstufe 8 * Energieumwandlungen

Wird die Solarzelle mit der Lampe beleuchtet, so rotiert der auf den Elektromotor gesteckte Propeller.

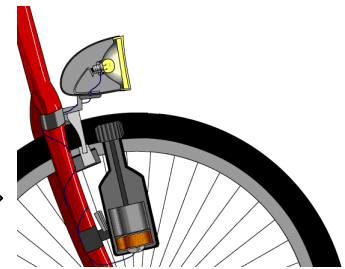
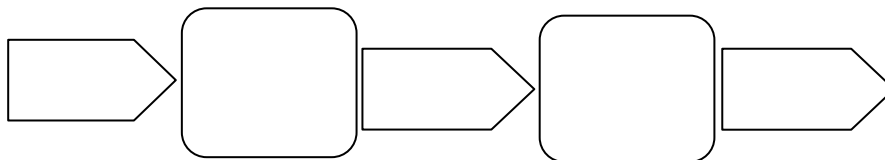


Erstelle das zugehörige Energieflussdiagramm, indem du die Energiearten und die Energiewandler in die Felder einträgst.

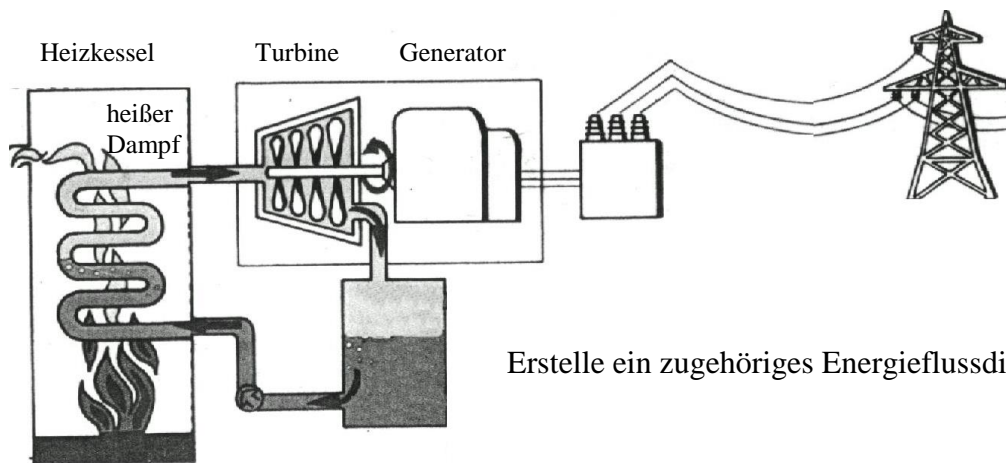
Energieart Energiewandler Energieart Energiewandler Energieart Energiewandler Energieart



Auch für den Fahrraddynamo kannst du ein Energieflussdiagramm erstellen.



Das Bild zeigt vereinfacht die Energieversorgung mit einem Kohlekraftwerk.



Erstelle ein zugehöriges Energieflussdiagramm!

